

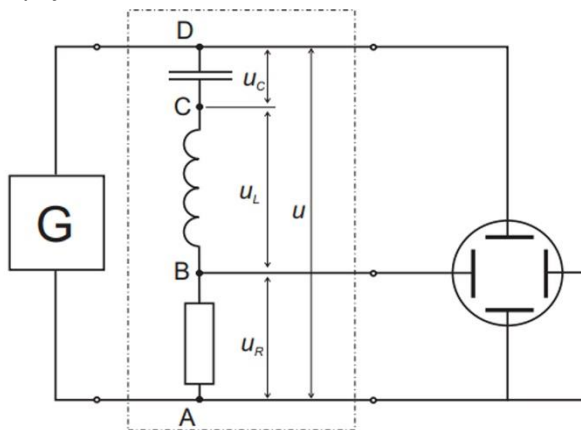
K úloze č. 6 RLC prvky v obvodu střídavého proudu:

k Úkolu 2:

Jelikož nemáme k dispozici osciloskop se dvěma galvanicky oddělenými vertikálními kanály (jak předpokládá návod k úloze), použijte k měření v Úkolu 2. zapojení a postup uvedený na stranách 2 a 3 souboru <https://physics.fme.vutbr.cz/~mcerny/BF/labiny/RLC.pdf>. Do protokolu vložte fotografie obrazovky, které popište a použijte k výpočtům L a C pro 5 různých frekvencí.

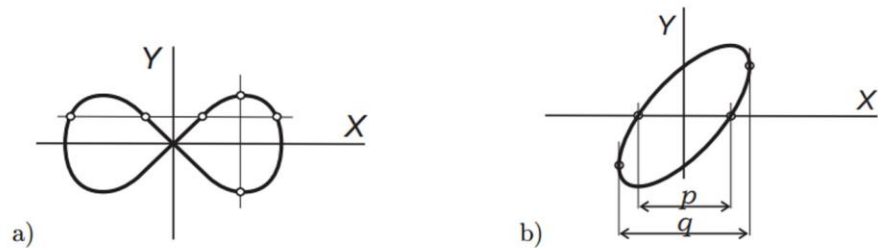
Při měření fázové rozdílu můžeme postupovat takto:

1. na oscilu BM366A (starý dvoukanálový osciloskop asi z roku 1991) nejdříve prověříme zobrazením signálu z generátoru NG1.81 (obdobné stáří), že oba y kanály jsou funkční, použijeme např. časovou základnu A. Když je vše OK, dostaneme na obrazovce průběh střídavého napětí zvolené frekvence v podobě sinusového průběhu (je-li generátor přepnut na sinus).
2. oscilo přepneme na volbu X-Y, tím se situace změní, nyní přístroj funguje tak, že funkce svislého zesilovače zůstala zachována. Na vodorovné ose x však nyní neběží časová základna, ale zesilovač x obdobně jako y zobrazuje průběh napětí přivedeného na vstup X osciloskopu.
3. po přepnutí na X-Y si funkci odzkoušíme: přivedeme signál z generátoru na Y vstup – na obrazovce dostaneme svislou úsečku, která ve svislé ose, tj. na přímce, zobrazuje okamžité výchylky signálu přivedeného z generátoru. Pokud zvolíme pro pochopení funkce přístroje frekvenci signálu z generátoru např. frekvenci 1 Hz, vstup Y přepneme na stejnosměrný (1 Hz už je na střídavý signál málo), vidíme na obrazovce svítící bod vykonávající harmonické kmitů s frekvencí 1 Hz ve svislé ose (amplituda kmitů odpovídá amplitudě signálu z generátoru). Totéž uvidíme, jestliže přihodíme vstup z generátoru na vstup B (tj. X) osciloskopu.
4. nyní vraťme vstup z oscilo na vstup A (tj. Y), $f=1$ Hz ponecháme. Volič funkce přepneme na A a nyní uvidíme časový rozvoj původně svislých harmonických kmitů v čase – frekvenci časové základny zvolíme $0,2s/div$. Vzhledem k dosvitu obrazovky vidíme i části sinusovky odpovídající době dosvitu obrazovky. V tuto chvíli to funguje tak, že elektronika osciloskopu svítící bod posouvá rovnoměrně přímočaře podél x s rychlostí, která je uvedena u přepínače rychlosti časové základny, nyní je to zvolených $0,2s/div$ (division = dílek). Budeme-li chtít vidět stále svítící sinusovku, zobrazující průběh napětí na svislé ose, stačí zvýšit rychlost přeběhu bodu po X, tj. dát kratší dobu proběhu jednoho dílku, zvolme např. $2ms/div$ a na generátoru $f=100$ Hz.
5. vraťme se k úloze, funkcím osciloskopu už rozumíme. Na generátoru nastavíme $f=5kHz$ sinus. Oscilo přepnut na X-Y, na vstupech A i B citlivost $0,2V/div$. Připojením signálu z generátoru na X dostaneme svítící úsečku v ose x o délce 4div (nastavením amplitudy výstupu z G), obdobně na ose Y (vstup A) svítící úsečku rovněž o délce 4div. Tím je vše připraveno a funkční.
6. zapojíme schéma dle obrázku níže:



Obrázek je přímo převzat z url viz výše.

7. vše zapojíme přesně podle obrázku, tj. zejména neživé konce (to bývá banánek se studenou barvou, tj. zelenou nebo modrou) a živé konce (banánek červené barvy) všech vodičů.
8. fázový posun mezi napětím a proudem stanovíme užitím návodu níže (opět převzato z materiálu viz url výše):



Obrázek 4: Lissajousovy křivky a odečítání fázového posuvu z osciloskopu

Lissajousovy křivky. Poměr frekvence horizontálního vychylování f_1 ku frekvenci vertikálního vychlování f_2 na obr. 4a je 4:2.


Obecným tvarem Lissajousova obrazce pro poměr frekvencí $f_1:f_2 = 1:1$ je elipsa na obr. 4b. Tu spatříme při zapojení RLC obvodu podle obr. 3 na obrazovce osciloskopu. Jestliže nastavíme střed elipsy do počátku souřadných os a změříme na souřadné ose x délky úseček p a q podle obrázku, potom platí pro fázový posun proudu vzhledem k napětí vztah

$$|\sin \varphi| = p/q. \quad (4)$$

Jest zřejmé, že v okamžiku rezonance, kdy fázový posuv $\varphi = 0$, jest $p = 0$ a tedy elipsa degeneruje na šikmo položenou úsečku. Jestliže v RLC obvodu překleneme vodičem (tedy zkratujeme) cívku nebo kondenzátor, nemůže ve zbývajícím obvodu dojít k rezonanci. Můžeme však určit úhel φ a ze známé hodnoty R a frekvence generátoru f vypočítat indukčnost cívky L , případně kapacitu kondenzátoru C . Z Thomsonova vztahu pak můžeme zkontrolovat hodnotu rezonanční frekvence, jak bylo uvedeno při popisu obr. 2.

Měření fázového posuvu provedte pro $R=50$ ohmů, $C=150$ nF (obojí jmenovité hodnoty, přesné změřit) v rozsahu frekvencí $f=5$ kHz – 30 kHz a poté dle úkolu nakreslete graf závislosti impedance obvodu na frekvenci.

Analogicky totéž pro cívku $L=5,6$ mH (orientační hodnota, přesnou změřit) v intervalu $f=2$ kHz – 20 kHz.



Ilustrační foto k měření fázového posuvu.

k Úkolu 3:

V protokolu samozřejmě budou i vektorové diagramy pro RC a RL.